

## 試験問題例

### 1 教養試験〔I類〕

#### (1) 知識分野

[経済] マイナス金利政策に関する次の文中のア～ウに入るものがいずれも妥当なのはどれか。

2016年、日本銀行はいわゆるマイナス金利政策を導入した。これは民間銀行が日本銀行に持つ当座預金の一部に対して、マイナスの金利をつける政策である。この政策の下では民間銀行が当座預金残高を減らす誘因が働くため、それによって民間銀行の家計や企業への貸出しを  狙いがある。また、家計の消費や企業の設備投資が増加することなどによって、物価が  することが期待される。

マイナス金利政策の影響として、日本国内の資金運用の収益率が低下し、日本から資金が流出するため、為替レートが  となりやすい。

- |        | ア | イ  | ウ  |
|--------|---|----|----|
| 1. 増やす |   | 上昇 | 円安 |
| 2. 増やす |   | 上昇 | 円高 |
| 3. 増やす |   | 下落 | 円高 |
| 4. 減らす |   | 上昇 | 円安 |
| 5. 減らす |   | 下落 | 円高 |

【正答 1】

## 試験問題例

[社 会] 近年の日本の農業に関する次の記述ア～オのうちには妥当なものが二つある。それらはどれか。

- ア. 農業就業人口は減少しているが、法人経営体に雇用される新規就農者は若い世代が多いことから、農業就業人口全体に占める 65 歳以上の者の割合は約 3 割になった。
- イ. 効率的な農業経営のために農地の集積・集約化が進められており、この取組の障害となっていた農地中間管理機構（農地バンク）は廃止された。
- ウ. 地域ごとに農業産出額を米、野菜、畜産、その他に分けてその割合を見ると、北海道地方や九州・沖縄地方は畜産の割合が最も大きく、北陸地方は米の割合が最も大きい。
- エ. シカやイノシシなど野生鳥獣による農作物の被害は農山村に深刻な影響を及ぼしている。政府は、その対策として捕獲された動物について、ジビエとして有効活用するための取組を進めている。
- オ. 世界的に日本食が人気となっているが、日本の農産物は価格競争力で劣るために、農産物の輸出額は減少傾向にある。特に日本酒などの加工食品やいちご、りんごなどの青果物の減少が著しい。

- 1. ア, イ
- 2. ア, オ
- 3. イ, エ
- 4. ウ, エ
- 5. ウ, オ

【正答 4】

## 試験問題例

[社 会] 感染症に関する次の記述ア～オのうちには妥当なものが二つある。それらはどれか。

- ア. インフルエンザウイルスには、ヒトだけでなくブタやトリなどにも感染するものがある。ウイルスが種を超えて感染すると新型インフルエンザウイルスが出現することがあり、これは世界的な流行を引き起こす可能性が高い。
- イ. HIV（ヒト免疫不全ウイルス）の感染者数はアメリカ合衆国や西ヨーロッパ諸国など先進国が多い。アジアやアフリカなどの途上国では感染者数は比較的少ない。
- ウ. 結核は、多くの国で第二次世界大戦後に感染率、死亡率が大幅に低下したが、世界的に見て依然として重大な感染症である。日本でも新規患者や死者は毎年出ている。
- エ. 風しんは、妊婦が感染した場合、胎児に重篤な影響を及ぼす。日本では予防接種が実施されてきたことにより、20世紀末を最後に新規患者は報告されていない。
- オ. エボラ出血熱は、南アメリカ大陸で初めて確認された感染症である。致死率が高く、近年、世界的に見ても2010年代には過去最大の流行がブラジルやコロンビアなどで発生し、多くの死者が出た。

- 1. ア, ウ
- 2. ア, エ
- 3. イ, ウ
- 4. イ, オ
- 5. エ, オ

【正答 1】

[国 語] 次のうち、下線部分の漢字の使い方が正しいのはどれか。

- 1. もはや規正事実として認めざるを得ない。
- 2. ロシア文学に系統して主な作家の作品を読みあさった。
- 3. 医師免許を剥脱する。
- 4. 人間の欲望には際限がない。
- 5. 台風が近づいていたが、登山を強硬した。

【正答 4】

## 試験問題例

### (2) 知能分野

[判断推理] A～Dの4人が自転車レースをした。4人は時間をずらして1人ずつスタート地点を出発し、ゴール地点を目指した。コースの途中にはチェックポイントが1か所あった。レースについて次のことが分かっている。

- ・ Aは、チェックポイントに着くまでは、誰も追い抜かず、2人に追い抜かれた。チェックポイントに着いたところでリタイアし、すぐにコースから外れた。
  - ・ Bは、チェックポイントに着くまでは、誰も追い抜かず、誰にも追い抜かれなかった。チェックポイントを過ぎてからは、1人を追い抜き、誰にも追い抜かれなかった。
  - ・ Cは、チェックポイントを過ぎてからは、1人を追い抜き、誰にも追い抜かれなかった。
- このとき、ゴールした順番を正しく示しているのはどれか。

	1番	2番	3番
1.	B	C	D
2.	C	B	D
3.	C	D	B
4.	D	B	C
5.	D	C	B

【正答 2】

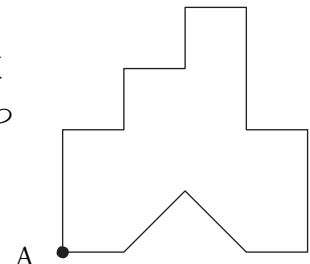
## 試験問題例

[数的処理] ある店で、赤ワイン4本と白ワイン5本のセットを1万円で、赤ワイン2本と白ワイン3本のセットを6千円で販売した。2種類のセットの売上は合計50万円で、売れた赤ワインの本数は合計180本であった。売れたセットの数は合計いくつか。

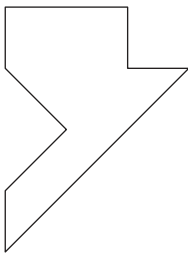
1. 55 セット
2. 60 セット
3. 65 セット
4. 70 セット
5. 75 セット

【正答 4】

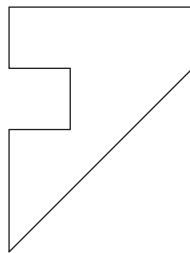
[図形判断] 1辺が4cmの正方形の紙から、1辺が1cmの正方形を五つと斜辺が2cmの直角二等辺三角形を一つ切り取ったところ、右図のようになった。この紙を、頂点Aを通る元の正方形の対角線の位置で折ったとき、できる図形の輪郭として妥当なのはどれか。



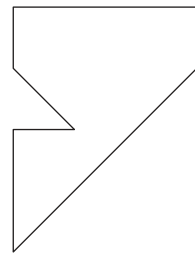
1.



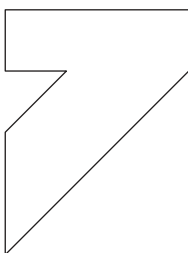
2.



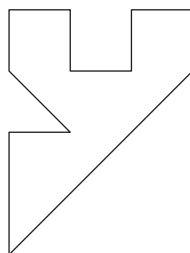
3.



4.



5.



【正答 3】

## 試験問題例

### 2 教養試験〔Ⅲ類〕

#### (1) 知識分野

[政治] 日本とアメリカ合衆国の政治制度を比較した次の記述のうち妥当なのはどれか。

1. 日本の国会は衆議院と参議院からなる二院制であるのに対し、アメリカ合衆国の連邦議会は一院制である。
2. 日本では内閣総理大臣は国会の指名に基づいて決まり、アメリカ合衆国でも大統領は連邦議会の指名に基づいて決まる。
3. 日本では、国会に法案を提出できるのは国会議員のみであるのに対し、アメリカ合衆国では連邦議会に法案を提出できるのは大統領のみである。
4. 日本では内閣は衆議院の解散を決定することができるのに対し、アメリカ合衆国では大統領は連邦議会を解散することができない。
5. 日本の最高裁判所は違憲法令審査権を持たないのに対し、アメリカ合衆国の連邦最高裁判所は違憲法令審査権を持つ。

【正答 4】

[経済] 日本の企業に関する次の記述ア～エのうちには妥当なものが二つある。それらはどれか。

- ア. 株式会社は、株式を発行して資金を集める企業形態であり、会社に損失が生じて、株主の責任は出資金の範囲に限定される。
- イ. 株式会社の最高意思決定機関は、取締役会であり、ここでは株主総会の承認を得なくとも、取締役を選任したり株主への配当を決定したりすることができる。
- ウ. 企業には、利潤を上げるだけでなく、雇用を確保したり、環境保全に努めたりすることが社会的責任として期待されている。
- エ. 企業の合併や買収によって市場の独占が進むと、製品の安定供給がなされ、価格が変動しにくくなるので、消費者にとって有利となりやすい。

1. ア, ウ
2. ア, エ
3. イ, ウ
4. イ, エ
5. ウ, エ

【正答 1】

## 試験問題例

[社 会] 日本の高齢者をめぐる状況に関する次の記述ア～エのうちには妥当なものが二つある。それらはどれか。

- ア. 65 歳以上の高齢者の人口は増加を続けており、既に総人口の 4 分の 1 を超えている。
- イ. 在宅医療などを充実させる政府の施策が進められており、高齢者医療費が国民医療費全体に占める割合は 20%程度に抑えられている。
- ウ. 国民年金又は厚生年金に加入し、一定期間以上保険料を納めた者は老齢年金を受給できる。老齢年金の受給額は、保険料の納付期間や金額によらず一律である。
- エ. 介護保険制度の保険料を納めた者は、介護が必要と認定された場合、費用の一部を支払い、介護サービスを利用することができる。要介護認定者数は増加を続けている。

- 1. ア, イ
- 2. ア, エ
- 3. イ, ウ
- 4. イ, エ
- 5. ウ, エ

【正答 2】

[国 語] 次のうち、下線部分の漢字が正しいのはどれか。

- 1. 不要な擬惑を招く言動は避けるべきだ。
- 2. まずは斬定的な企画案を作成する。
- 3. 彼は別の話を前後の脈酪なく始めた。
- 4. お世話になった人にお歳慕を贈る。
- 5. 壮年期に入り、ますます仕事に打ち込む。

【正答 5】

## 試験問題例

### (2) 知能分野

[判断推理] A～Gの7人が丸テーブルを囲む七つの席に座る。まずBとGが席を一つ挟んで座り、次にDとFが席を二つ挟んで座った。さらにAとEが席を三つ挟んで座ったが、この三つの席にFは座っておらず、AはGと隣り合わせではなかった。最後にCがEと隣り合わせに座った。このとき、確実に言えるのはどれか。

1. AとBは席を二つ挟んで座っている。
2. AとDは席を一つ挟んで座っている。
3. BとEは席を一つ挟んで座っている。
4. BとFは隣り合わせに座っている。
5. CとDは隣り合わせに座っている。

【正答 2】

[数的処理] 3種類の飲物A, B, Cがある。値段の比はAとBが1:4, BとCが2:1であり、A, B, Cを1本ずつ買うと合計で560円になる。AとCの値段の差はいくらか。

1. 40円
2. 50円
3. 60円
4. 70円
5. 80円

【正答 5】

**試験問題例**

[図形判断] 図 I のように、正方形の紙の 3 辺に中点をとって、隣り合う 2 辺の中点を結んでできる斜線部分の二つの三角形を切り取って五角形の紙を作った。この五角形の紙を、図 II のように破線に沿って谷折りにしていき、小さな三角形を作った。この三角形から、そのままの向きで図 III の斜線部分を切り取った。この紙を広げたときの図として妥当なのはどれか。

図 I

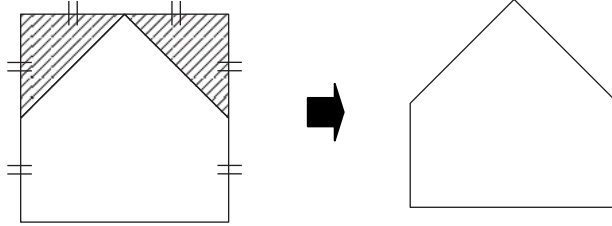


図 II

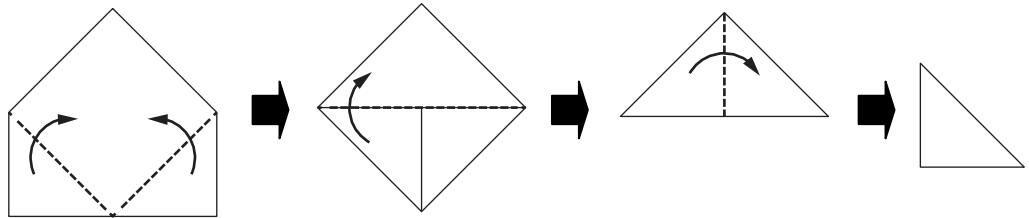
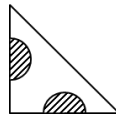
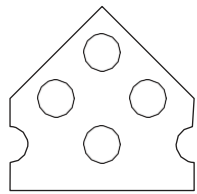


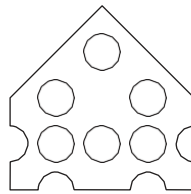
図 III



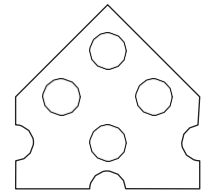
1.



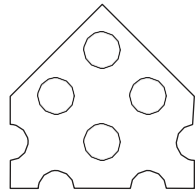
2.



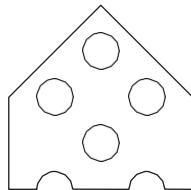
3.



4.



5.



【正答 4】

## 試験問題例

### 3 論(作)文試験

I 類	自分自身の個性や能力等に触れながら、理想とする警察官になるために、あなたが今後取り組むべきことについて述べなさい。
III類	自分自身を高めるために取り組んでいることについて述べ、それを警察官の仕事にどのように活かしていきたいか述べなさい。